

北

ふじさんせかいいさん きたかん
富士山世界遺産センター北館ワークシート
 (動植物編：どうしょくぶつへん)



このワークシートは、
北館“自然コーナー”
 用です。
 ←【北館展示左側へ】



学校 年 組【氏名】

① 展示「富士山は野鳥の高層住宅」にあるハンドルをまわし、すべての鳥たちが居心地のよい場所にくるようにして、下の問題に答えましょう。



コルリ

① コルリの場所は何mですか。

①

こたえ

② アカゲラの場所は何mですか。

②

こたえ

③～⑤

2400～3000mを居心地のよい場所とする鳥を3つ答えましょう。

③

こたえ

④

こたえ

⑤

こたえ




アカゲラ


② 展示「動物も山頂をめざす！」を見学して、富士山の頂上に姿を見せた動物に、○印をつけましょう。(⑥～⑫)

 ツキノワグマ ()	 コアラ ()	 カモシカ ()	 ホンドキツネ ()	 ニホンジカ ()
 ウサギコウモリ ()	 モモンガ ()	 パンダ ()	 ムササビ ()	 ニホンザル ()

○印は全部で7つだよ。
 展示の解説もよく読んでくださいね。



③ 富士山の森林限界(※)について、正しい説明をA・Bからえらびましょう。



※森林限界:高山等において環境(かんきょう)の変化のため、森林が育つことができなくなる限界線。







- A: 富士山の森林限界は東西南北どこの斜面でも同じ高さです。
- B: 富士山の森林限界は、おおよそ2,400mあたりです。






⑬ 13 こたえ

500年後、富士山の南斜面では、2,400mの森林限界が2,800mになることが、山梨県富士山科学研究所の研究者らの調査によってわかりました。

----- 裏面につづきます。

④ 富士山で見られる代表的な植物に、^{しよくぶつ} 標高の^{ひようこう} 高い順に^{じゆん} 番号をつけましょう。⑭

					
ブナ	カラマツ	オンタデ	シラビソ	ダケカンバ	アカマツ
()	()	()	()	()	()

				
コメツガ	ミズナラ	ヒノキ	ミヤマハンノキ	シラカンバ
()	()	()	()	()

⑤ 富士山世界遺産センターの敷地内でよく見られる樹木【樹の皮の色は赤褐色（赤茶色）】を、上の図の中からえらび、答えましょう。

※ 展望デッキからよく見えるよ！


⑮

こたえ

■ 時間があれば・・・



北館2階展望デッキからは、富士山がよく見えます。時間がある人は、ぜひ、スケッチしてみよう。



正解数

判定：15こ【はかせ】，12～14こ【合格】，9～11こ【まあまあ】，8こ以下【がんばろう】

■ 解答












① 700~1600m ② ~700m ③~⑤ イワヒバリ, アマツバメ, カヤクグリ

⑥~⑫

				
ツキノワグマ (○)	コアラ ()	カモシカ (○)	ホンドキツネ (○)	ニホンジカ (○)
				
ウサギコウモリ (○)	モモンガ (○)	パンダ ()	ムササビ (○)	ニホンザル ()

⑬ B

⑭ 【全問正解で○】

					
ブナ (8)	カラムツ (3)	オンタデ (1)	シラビソ (5)	ダケカンバ (4)	アカマツ (10)
					
コメツガ (6)	ミズナラ (9)	ヒノキ (7)	ミヤマハンノキ (2)	シラカンバ (11)	

⑮ アカマツ